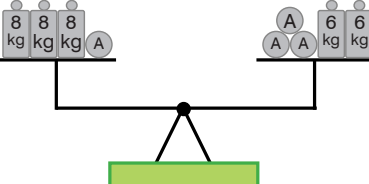
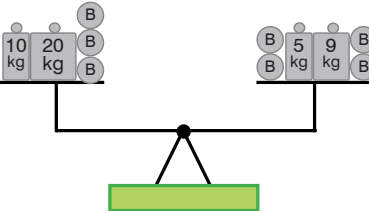
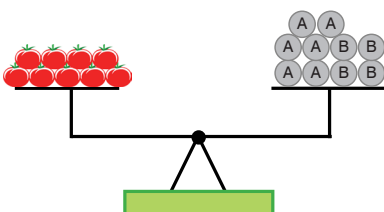
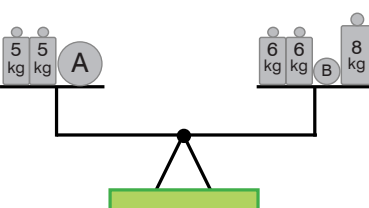
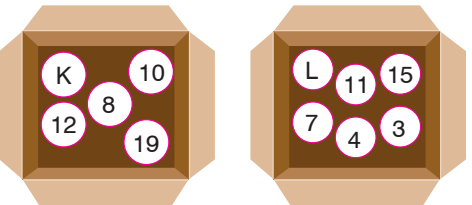


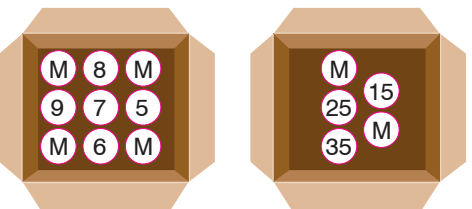
1. 
- Yukarıdaki eşit kollu terazi dengede olduğuna göre bir A cismi kaç kg'dır?

2. 
- Yukarıdaki eşit kollu terazi dengede olduğuna göre bir B cismi kaç kg'dır?

3. 
- Yukarıdaki eşit kollu terazi dengededir. A cismi 7 kg, B cismi 5 kg olduğuna göre terazideki domateslerin toplam kütlesi kaç kilogramdır?

4. 
- Yukarıdaki eşit kollu terazi dengede olduğuna göre A cisminin kütlesi B cisminin kütlesinden kaç kg fazladır?

5. 
- Yukarıda verilen her iki kutu içerisindeki sayıların toplamı birbirine eşittir. Buna göre L-K kaçtır?

6. 
- Yukarıda verilen her iki kutu içerisindeki sayıların toplamı birbirine eşittir. Buna göre M kaçtır?

7. $19 + A = 37 + 19$
- Yukarıda verilen eşitliğe göre A kaçtır?

8. $35 + 48 + 54 = 48 + B + 35$
- Yukarıda verilen eşitliğe göre B kaçtır?

9. $255 + A = B + 196$
- Yukarıda verilen eşitliğe göre A - B kaçtır?

10.

$$(8+18)+33 = A+(18+33)$$

Yukarıda verilen eşitliğe göre A kaçtır?

11.

$$A+(15+11)=(27+15)+B$$

Yukarıda verilen eşitliğe göre A ve B kaçtır?

12.

$$(571+A)+612=B+(199+612)$$

Yukarıda verilen eşitliğe göre A ve B kaçtır?

13.

$$81 \times 102 = 102 \times A$$

Yukarıda verilen eşitliğe göre A kaçtır?

14.

$$35 \times A = B \times 32$$

Yukarıda verilen eşitliğe göre A ve B kaçtır?

15.

$$A \times 155 = B \times 208$$

Yukarıda verilen eşitliğe göre A ve B kaçtır?

16.

$$A \times (2 \times 7) = 5 \times (2 \times 7)$$

Yukarıda verilen eşitliğe göre A kaçtır?

17.

$$17 \times (A \times 19) = 17 \times (18 \times B)$$

Yukarıda verilen eşitliğe göre A ve B kaçtır?

18.

$$(A \times 384) \times 901 = 583 \times (384 \times B)$$

Yukarıda verilen eşitliğe göre A ve B kaçtır?

19.

$$5 \times (8+9) = (5 \times 8) + (5 \times A)$$

Yukarıda verilen eşitliğe göre A kaçtır?

20.

$$23 \times (81+19)=(23 \times A)+(23 \times B)$$

Yukarıda verilen eşitliğe göre A ve B kaçtır?

21.

$$A \times (184-75) = (50 \times 184) - (50 \times B)$$

Yukarıda verilen eşitliğe göre A ve B kaçtır?