

ÇÖZÜMLER

1. Aşağıdaki boşlukları uygun sayılarla doldurunuz.

- 2,9 km = 2900 m
- 6,8 m = 680 cm
- 0,5 hm = 500 dm
- 1,2 m = 1200 mm
- 7,4 dam = 7400 cm
- 1,25 hm = 125 m
- 0,36 km = 36 dam
- 9,3 dm = 930 mm
- 0,48 m = 480 mm
- 3,7 dm = 37 cm
- 8,6 m = 860 cm
- 2,75 hm = 2750 dm
- 36000 mm = 36 m
- 27000 cm = 2,7 hm
- 45000 mm = 4,5 dam
- 5900 cm = 5,9 dam
- 72000 mm = 72 m
- 810 m = 8,1 hm
- 770 dam = 7,7 km
- 940 m = 0,94 km
- 650 dm = 6,5 dam
- 3000 m = 3 km
- 4500 cm = 0,45 hm
- 500 m = 0,5 km

2.



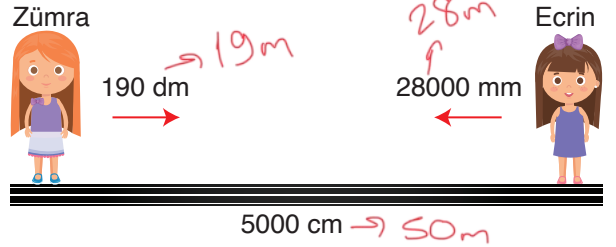
İstanbul'dan Kastamonuya giden Poyraz yukarıdaki tabelayı gördükten sonra 17900 dam daha yol gitmiştir.

Buna göre son durumda Poyraz'ın Kastamonu'ya varmasına kaç metre yolu kalmıştır?

$$\begin{array}{r} 255000 \\ - 179000 \\ \hline 76000 \end{array}$$

76000 m

3.



Aralarında 5000 cm mesafe bulunan Zümra ve Ecrin birbirlerine doğru 190 dm ve 28000 mm yaklaşıyor.

Son durumda aralarındaki mesafe kaç metre olur?

$$19 + 28 = 47 \quad 50 - 47 = 3 \quad 3m$$

4.



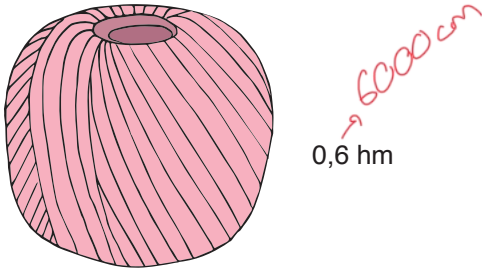
Kayra'nın karışığı 15 cm'dir.

Kayra'nın karışığıyla 40 seferde ölçülen bir mesafe kaç metredir?

$$\begin{array}{r} 15 \\ \times 40 \\ \hline 600 \end{array}$$

6m

5.



Terzi Derin Hanım 400 cm kumaştan bir elbise diktğine göre, yukarıda uzunluğu verilen kumaş ile en fazla kaç elbise diker?

$$6000 \div 400 = 15$$

15 elbise diker

6.



İki arkadaştan Mehmet 5,8 km, Eymen 630 dam koşmuştur.


58000dm 63000dm

Buna göre Eymen Mehmet'ten kaç dm fazla koşmuştur?

$$\begin{array}{r} 63000 \\ - 58000 \\ \hline 5000 \end{array}$$

5000dm

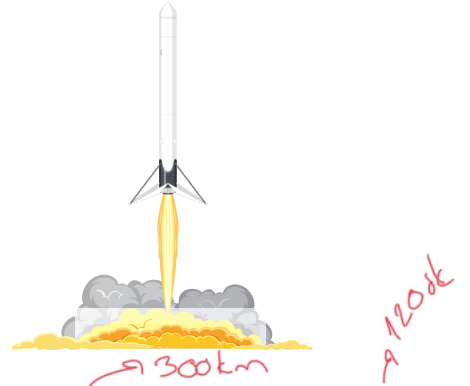
7.



Yukarıda kenar uzunlukları verilen dikdörtgen şeklindeki arsanın çevre uzunluğu kaç m'dir?

$$210 + 210 + 540 + 540 = 1500m$$

8.



Bir dakikada 300000 m yol alan bir füze 2 saatte kaç km yol alır?

$$\begin{array}{r} 300 \\ \times 120 \\ \hline 36000 \end{array}$$

36000 km

9.

155cm
15,5 dm



Alperen

138cm
1380 mm



İsmet

$$\begin{array}{r} 155 \\ - 138 \\ \hline 17 \end{array}$$

Yukarıda verilenlere göre Alperen'in boyu İsmet'in boyundan kaç cm uzundur?

17cm

10. 30 cm'si 130 ₺ olan kumaştan 2,7 m alan Tuğrul kaç ₺ ödeme yapar?

$$\begin{array}{r} 270 \div 30 \\ \hline 9 \text{ adet} \\ \text{kumaş alır.} \end{array} \quad \begin{array}{r} 130 \\ \times 9 \\ \hline 1170 \end{array}$$

270cm

1170₺

11. Bir adımı 7 dm olan Önder Hoca 1,4 dam'lik okul koridorunun başından sonuna kaç adımda gider?

$$\begin{array}{r} 140 \div 7 \\ \hline 20 \end{array}$$

20 adım