

1. Aşağıdaki boşlukları uygun sayılarla doldurunuz.

- 2,9 km = m
- 6,8 m = cm
- 0,5 hm = dm
- 1,2 m = mm
- 7,4 dam = cm
- 1,25 hm = m
- 0,36 km = dam
- 9,3 dm = mm
- 0,48 m = mm
- 3,7 dm = cm
- 8,6 m = cm
- 2,75 hm = dm
- 36000 mm = m
- 27000 cm = hm
- 45000 mm = dam
- 5900 cm = dam
- 72000 mm = m
- 810 m = hm
- 770 dam = km
- 940 m = km
- 650 dm = dam
- 3000 m = km
- 4500 cm = hm
- 500 m = km

2.

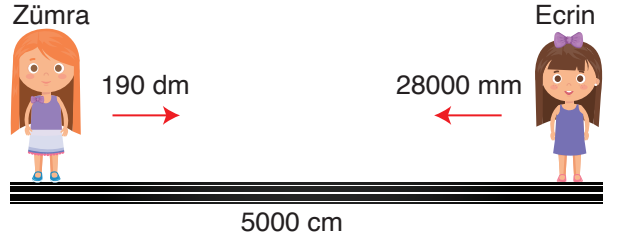


İstanbul'dan Kastamonuya giden Poyraz yukarıdaki tabelayı gördükten sonra 17900 dam daha yol gitmiştir.

Buna göre son durumda Poyraz'ın Kastamonu'ya varmasına kaç metre yolu kalmıştır?

3.

matematiktek



Aralarında 5000 cm mesafe bulunan Zümra ve Ecrin birbirlerine doğru 190 dm ve 28000 mm yaklaşıyor.

Son durumda aralarındaki mesafe kaç metre olur?

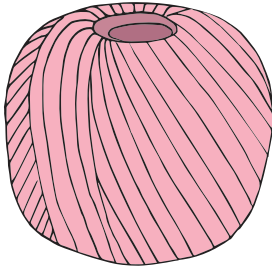
4.



Kayra'nın karışığı 15 cm'dir.

Kayra'nın karışığıyla 40 seferde ölçülen bir mesafe kaç metredir?

5.



0,6 hm

Terzi Derin Hanım 400 cm kumaştan bir elbise diktğine göre, yukarıda uzunluęu verilen kumaş ile en fazla kaç elbise diker?


6.



İki arkadaştan Mehmet 5,8 km, Eymen 630 dam koşmuştur.

Buna göre Eymen Mehmet'ten kaç dm fazla koşmuştur?

7.

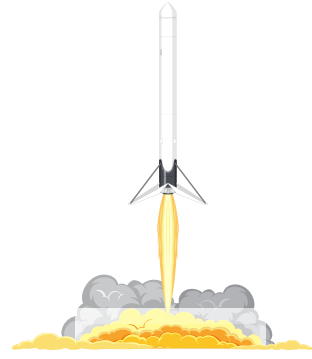


2,1 hm

540 dm

Yukarıda kenar uzunlukları verilen dikdörtgen şeklindeki arsanın çevre uzunluęu kaç km'dir?

8.



Bir dakikada 300000 m yol alan bir füze 2 saatte kaç km yol alır?

9.

15,5 dm



Alperen

1380 mm



İsmet

Yukarıda verilenlere göre Alperen'in boyu İsmet'in boyundan kaç cm uzundur?

10. 30 cm'si 130 ₺ olan kumaştan 2,7 m alan Tuęrul kaç ₺ ödeme yapar?

11. Bir adımı 7 dm olan Önder Hoca 1,4 dam'lik okul koridorunun başından sonuna kaç adımda gider?

matematiktek