

ÇÖZÜMLER

1. Aşağıda verilen soruları cevaplayınız.

400'ün %40'ı kaçtır?

$$400 \cdot \frac{40}{100} = 160$$

500'ün %30'u kaçtır?

$$500 \cdot \frac{30}{100} = 150$$

250'nin %20'si kaçtır?

$$250 \cdot \frac{20}{100} = 50$$

1300'ün %10'u kaçtır?

$$1300 \cdot \frac{10}{100} = 130$$


60'ın %5'i kaçtır?

$$60 \cdot \frac{5}{100} = \frac{300}{100} = 3$$

180'in %25'i kaçtır?


$$180 \cdot \frac{25}{100} = \frac{180}{4} = 45$$

2. Aşağıda verilen şeklin %15'ini boyayınız.



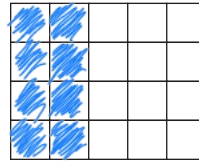
$$20 \cdot \frac{15}{100} = \frac{30}{10} = 3 \text{ kare}$$

3. Aşağıda verilen şeklin %60'ını boyayınız.



$$25 \cdot \frac{60}{100} = \frac{150}{10} = 15 \text{ kare}$$

4. Aşağıda verilen şeklin %40'ını boyayınız.



$$20 \cdot \frac{40}{100} = 8 \text{ kare}$$

5.



Yukarıdaki elmaların %25'ini boyayınız.

$$10 \cdot \frac{25}{100} = \frac{250}{100} = 2,5 \text{ elma}$$

