

1. Aşağıda verilen soruları cevaplayınız.

400'ün %40'ı kaçtır?

500'ün %30'u kaçtır?


250'nin %20'si kaçtır?

1300'ün %10'u kaçtır?

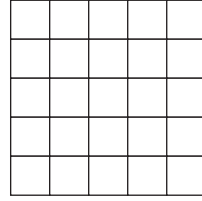
60'ın %5'i kaçtır?

180'in %25'i kaçtır?

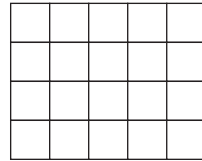
2. Aşağıda verilen şeklin %15'ini boyayınız.



3. Aşağıda verilen şeklin %60'ını boyayınız.



4. Aşağıda verilen şeklin %40'ını boyayınız.



5.



Yukarıdaki elmaların %25'ini boyayınız.

6. 280 sayfalık kitabın %55'ini okursak geriye okumadığımız kaç sayfa kalır?

7. Gıda alışverişlerinde KDV oranı %8'dir.

Buna göre 2500 ₺'lik gıda alışverişinde kaç ₺ KDV öderiz?

8. 50 soruluk bir sınavda, tüm soruları işaretleyen bir öğrenci soruların %24 ünü yanlış yapmıştır.

Bu sınavda üç yanlış bir doğruyu götürdüğüne göre bu öğrenci kaç net yapmıştır?

9. 40000 ₺'lik bir telefon 50000 ₺'ye satılırsa % kaç zam yapılmış olur?

10. 150000 ₺ maaş alan birinin kredi ödemelerinden sonra 126000 ₺'si kalmıştır.

Buna göre kredi ödemeleri bu kişinin maaşının % kaçtır?

11. 800 ₺'ye alınan pantolon %30 kârla kaç ₺'ye satılır?

12. 1500 ₺'lik bir ürüne önce %20 indirim yapılmıştır. Sonra indirimli fiyat üzerinden %20 zam yapılmıştır.

Bu ürünün son durumda fiyatı kaç ₺ olmuştur?

13. Bir çiftlikteki 320 hayvanın %75'i tavuk diğerleri koyundur.

Buna göre bu çiftlikteki hayvanların ayak sayıları toplamı kaçtır?

matematiktek