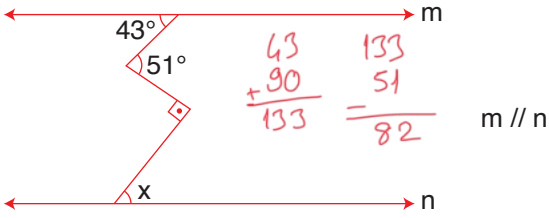


ÇÖZÜMLER

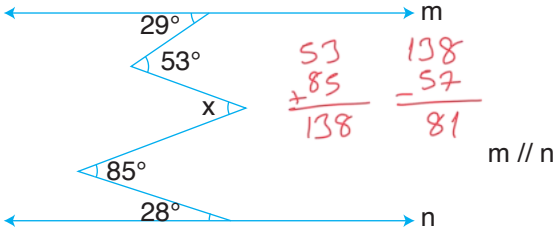
1.



Yukarıdaki şekilde verilenlere göre x kaç derecedir?

82

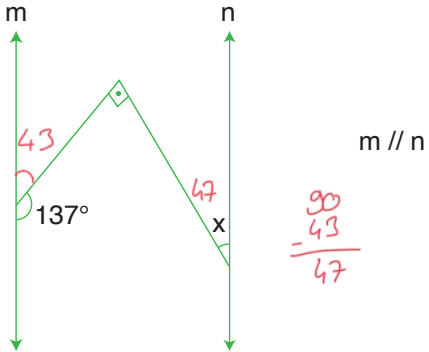
2.



Yukarıdaki şekilde verilenlere göre x kaç derecedir?

81

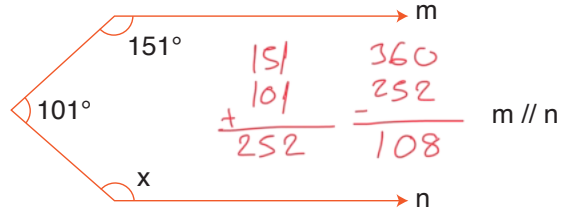
3.



Yukarıdaki şekilde verilenlere göre x kaç derecedir?

47

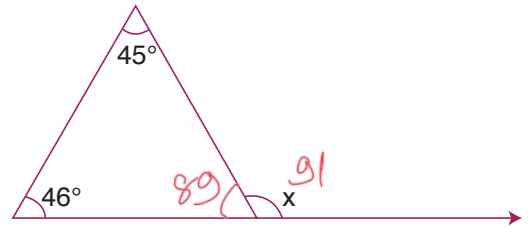
4.



Yukarıdaki şekilde verilenlere göre x kaç derecedir?

108

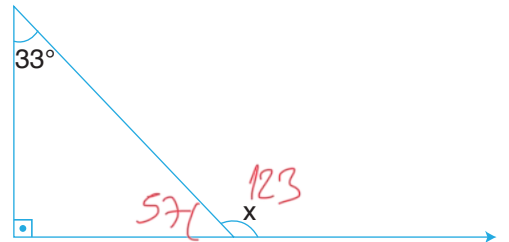
5.



Yukarıdaki şekilde verilenlere göre x kaç derecedir?

91

6.

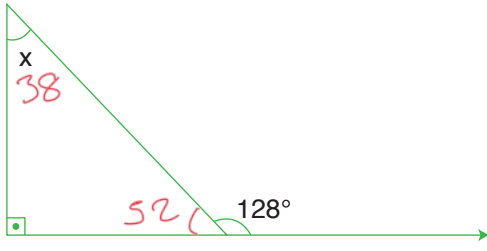


Yukarıdaki şekilde verilenlere göre x kaç derecedir?

123

matematiktek

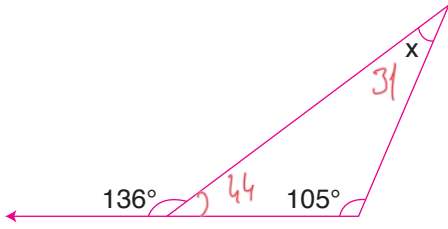
7.



Yukarıdaki şekilde verilenlere göre x kaç derecedir?

38

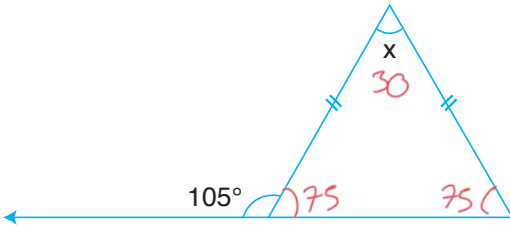
8.



Yukarıdaki şekilde verilenlere göre x kaç derecedir?

31

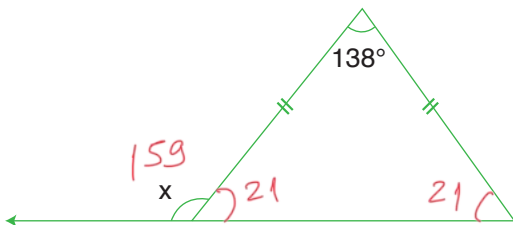
9.



Yukarıdaki şekilde verilenlere göre x kaç derecedir?

30

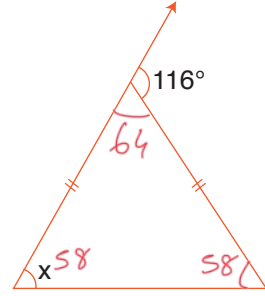
10.



Yukarıdaki şekilde verilenlere göre x kaç derecedir?

159

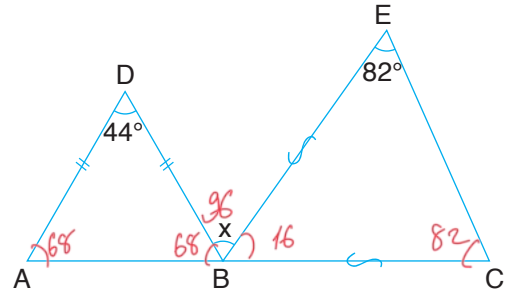
11.



Yukarıdaki şekilde verilenlere göre x kaç derecedir?

58

12.

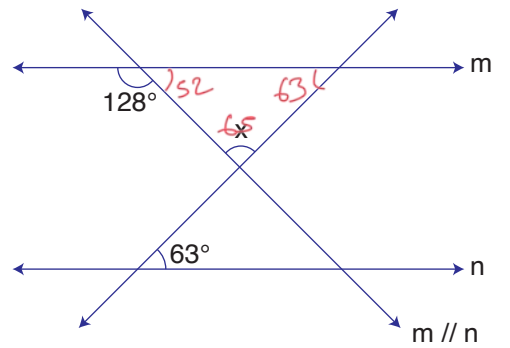


• A, B, C noktaları doğrusaldır.

Yukarıdaki şekilde verilenlere göre x kaç derecedir?

96

13.



Yukarıdaki şekilde verilenlere göre x kaç derecedir?

65

matematiktek