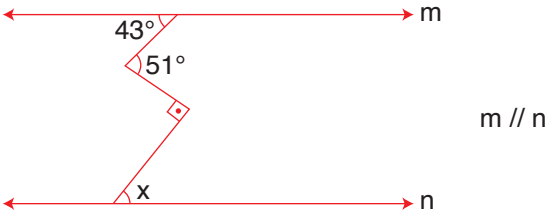
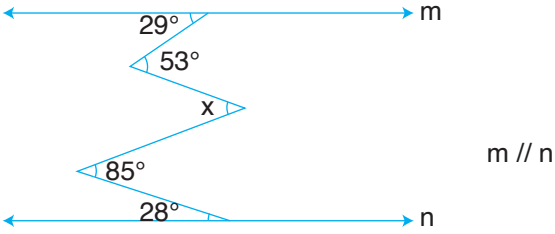


1.



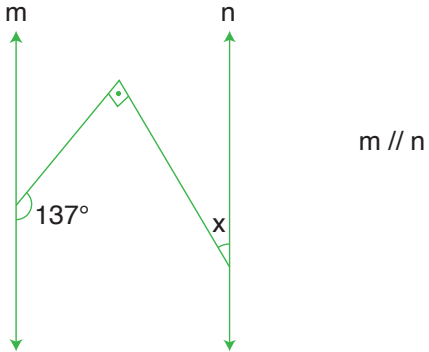
Yukarıdaki şekilde verilenlere göre  $x$  kaç derecedir?

2.



Yukarıdaki şekilde verilenlere göre  $x$  kaç derecedir?

3.



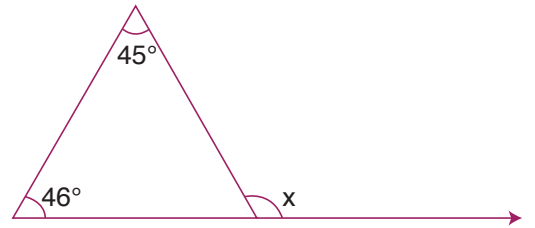
Yukarıdaki şekilde verilenlere göre  $x$  kaç derecedir?

4.



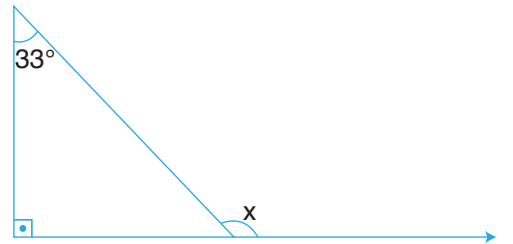
Yukarıdaki şekilde verilenlere göre  $x$  kaç derecedir?

5.



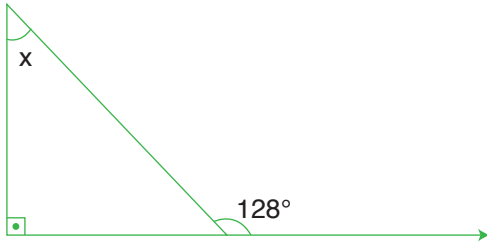
Yukarıdaki şekilde verilenlere göre  $x$  kaç derecedir?

6.



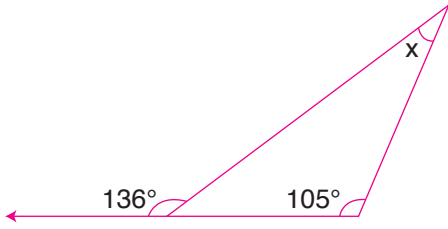
Yukarıdaki şekilde verilenlere göre  $x$  kaç derecedir?

7.



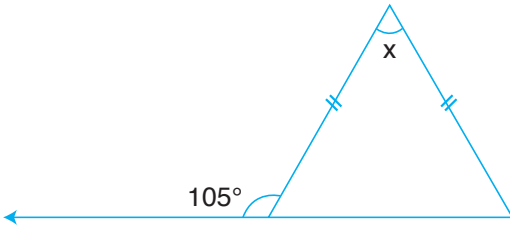
Yukarıdaki şekilde verilenlere göre  $x$  kaç derecedir?

8.



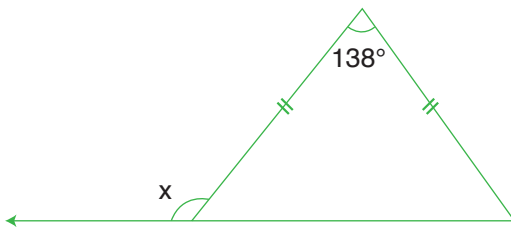
Yukarıdaki şekilde verilenlere göre  $x$  kaç derecedir?

9.



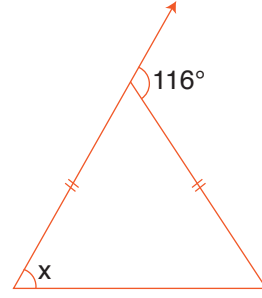
Yukarıdaki şekilde verilenlere göre  $x$  kaç derecedir?

10.



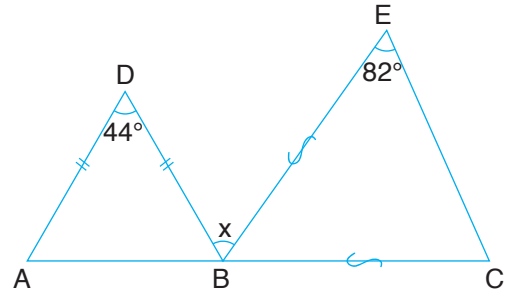
Yukarıdaki şekilde verilenlere göre  $x$  kaç derecedir?

11.



Yukarıdaki şekilde verilenlere göre  $x$  kaç derecedir?

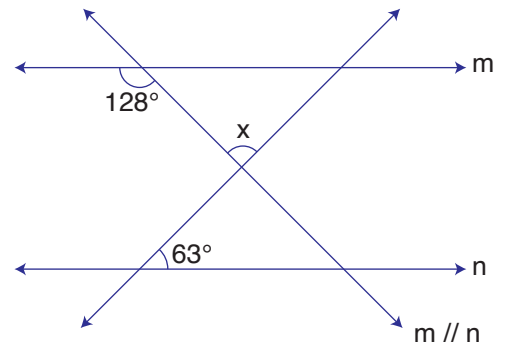
12.



• A, B, C noktaları doğrusaldır.

Yukarıdaki şekilde verilenlere göre  $x$  kaç derecedir?

13.



Yukarıdaki şekilde verilenlere göre  $x$  kaç derecedir?

matematiktek