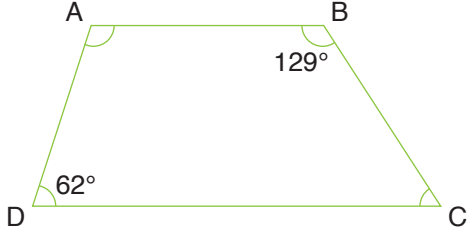
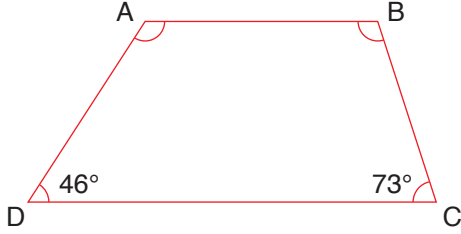


1.



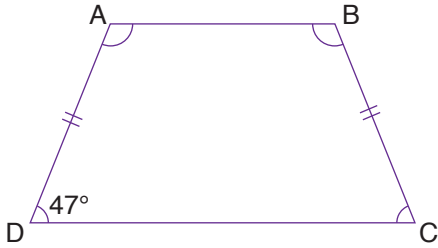
Yukarıdaki ABCD yamuğunda verilmeyen açıları bulunuz.

2.



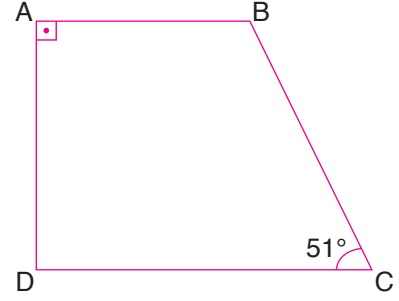
Yukarıdaki ABCD yamuğunda verilmeyen açıları bulunuz.

3.



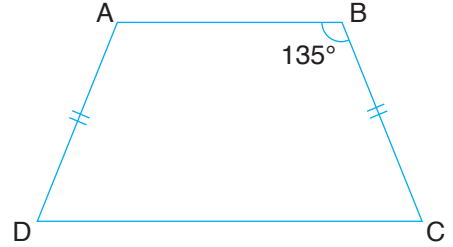
Yukarıdaki ABCD yamuğunda verilmeyen açıları bulunuz.

4.



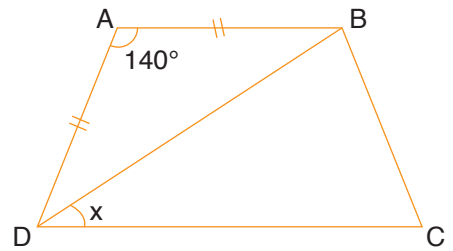
Yukarıdaki ABCD yamuğunda verilmeyen açıları bulunuz.

5.



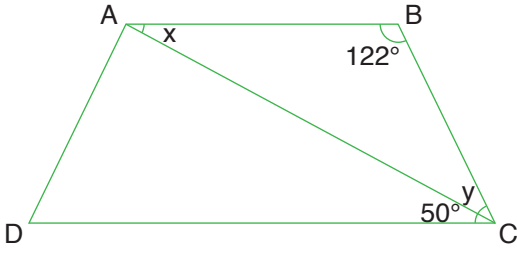
Yukarıdaki ABCD yamuğunda verilmeyen açıları bulunuz.

6.



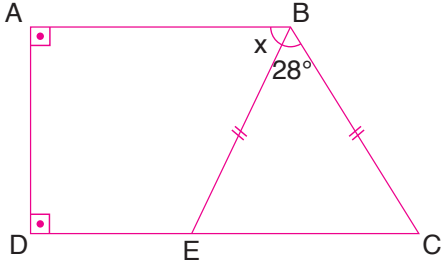
Yukarıdaki ABCD yamuğunda x kaçtır?

7.



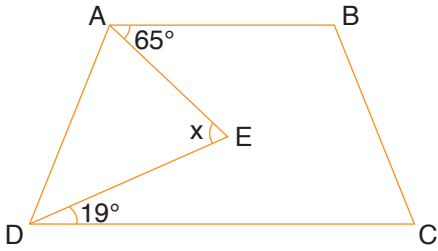
Yukarıdaki ABCD yamuğunda x ve y kaç derecedir?

8.



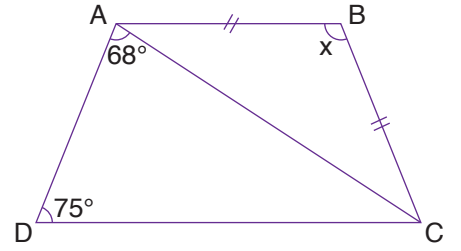
Yukarıdaki şekilde verilenlere göre x kaç derecedir?

9.



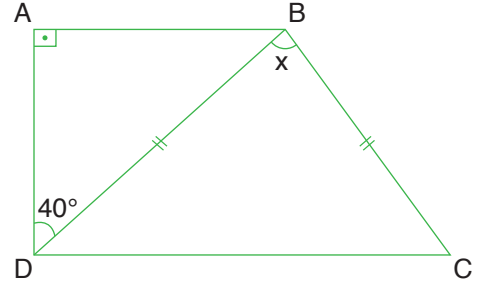
Yukarıdaki ABCD yamuğunda x kaç derecedir?

10.



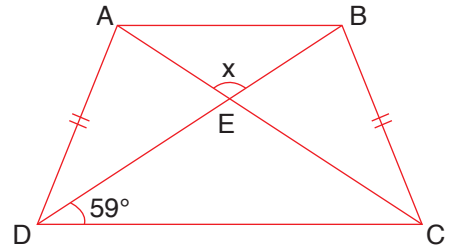
Yukarıdaki ABCD yamuğunda x kaç derecedir?

11.



Yukarıdaki ABCD yamuğunda x kaç derecedir?

12.



Yukarıdaki ABCD yamuğunda x kaç derecedir?

matematiktek