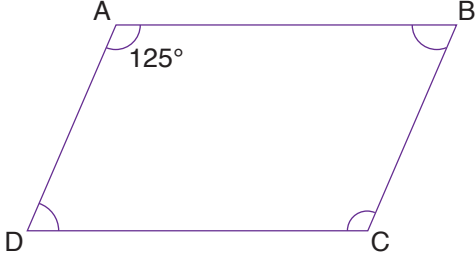
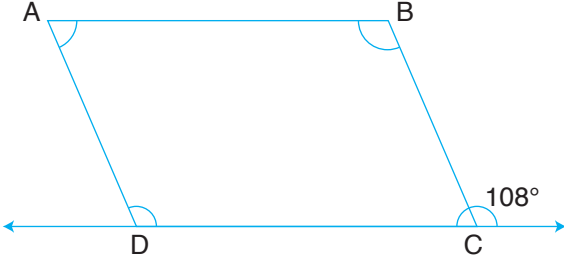


1.



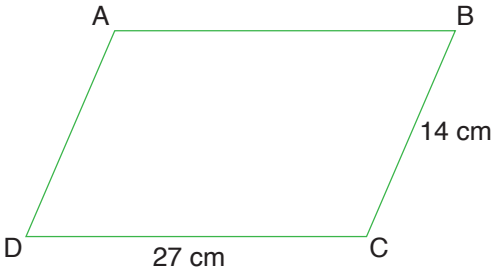
Yukarıdaki ABCD paralelkenarında verilmeyen açıları bulunuz.

2.



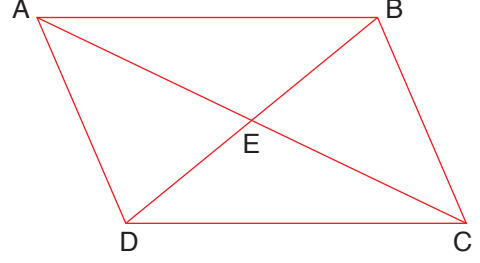
Yukarıdaki ABCD paralelkenarında verilmeyen açıları bulunuz.

3.



Yukarıdaki ABCD paralelkenarının çevresi kaç cm'dir?

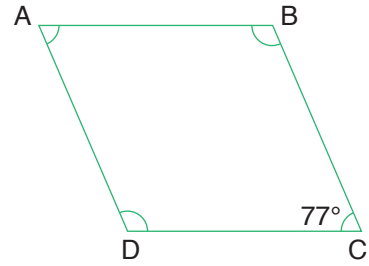
4.



Yukarıdaki ABCD paralelkenarında  $IAEI = 33$  cm ve  $IBEI = 27$  cm'dir.

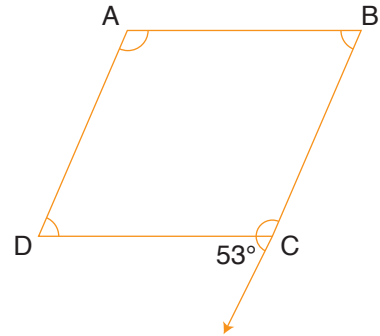
Buna göre  $IACI + IBDI$  kaç cm'dir?

5.



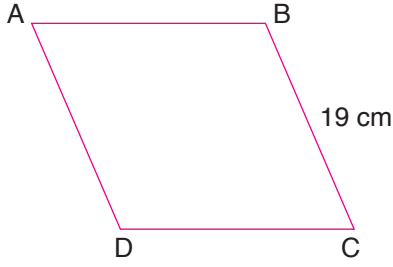
Yukarıdaki ABCD eşkenar dörtgeninde verilmeyen açıları bulunuz.

6.



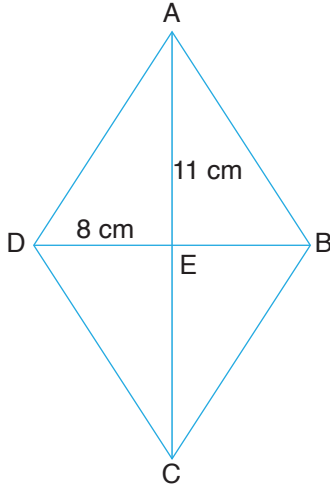
Yukarıdaki ABCD eşkenar dörtgeninde verilmeyen açıları bulunuz.

7.



Yukarıdaki ABCD eşkenar dörtgeninin çevresi kaç cm'dir?

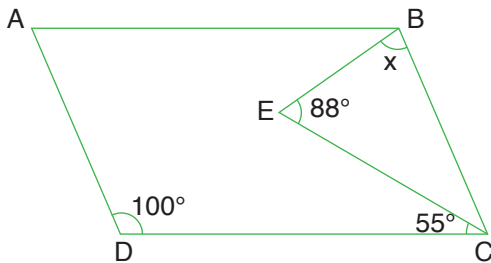
8.



Yukarıdaki ABCD eşkenar dörtgeninde  $IAEI = 11$  cm ve  $IDEI = 8$  cm'dir.

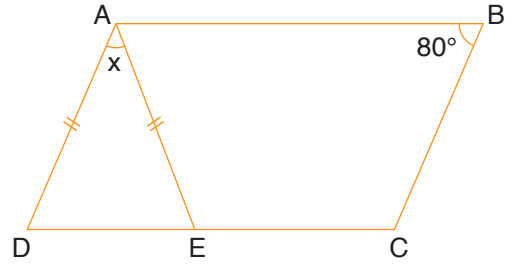
Buna göre  $IACI + IBDI$  kaç cm'dir?

9.



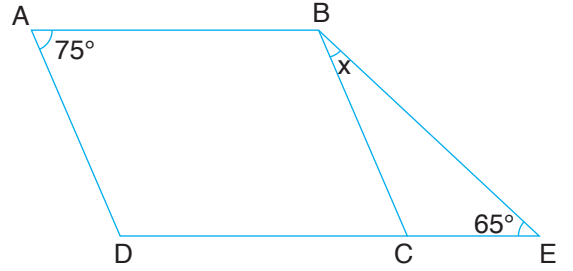
Yukarıdaki ABCD paralelkenarında  $x$  kaç derecedir?

10.



Yukarıdaki ABCD paralelkenarında  $x$  kaç derecedir?

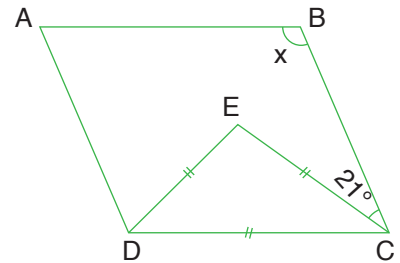
11.



Yukarıdaki ABCD paralelkenar ve ABED bir yamuktur.

Buna göre  $x$  kaç derecedir?

12.



Yukarıdaki ABCD paralelkenarında  $x$  kaç derecedir?

matematiktek