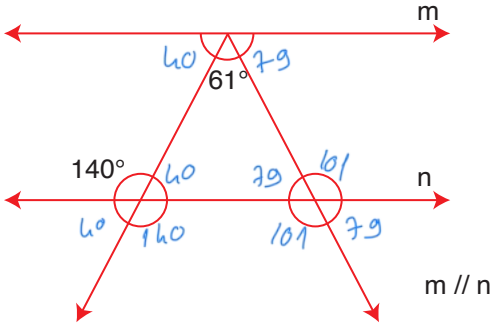


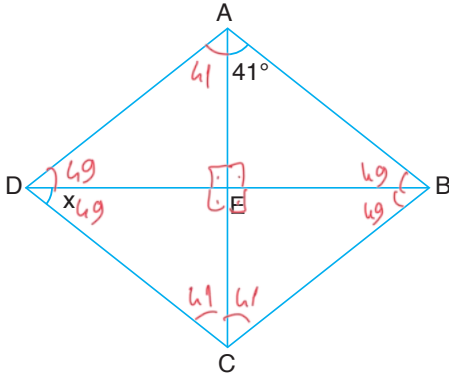
ÇÖZÜMLER

1.



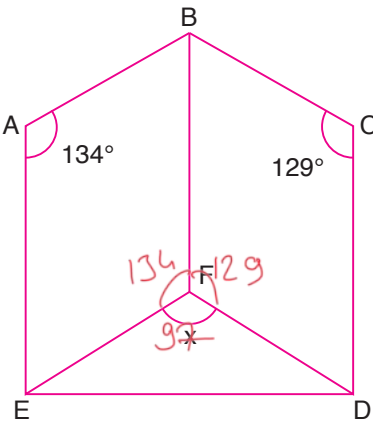
Yukarıdaki şekilde verilmeyen açıları bulunuz.

2.



Yukarıdaki ABCD eşkenar dörtgeninde x kaç derecedir?

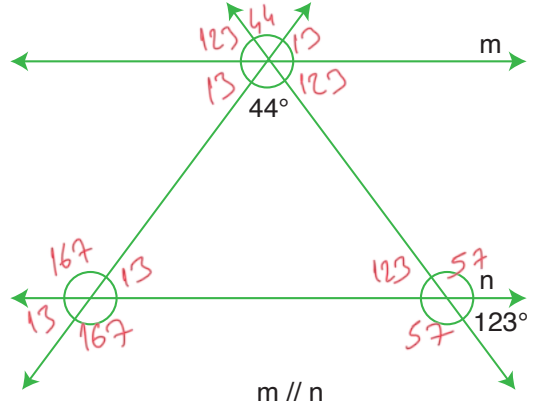
3.



Buna göre x kaç derecedir?

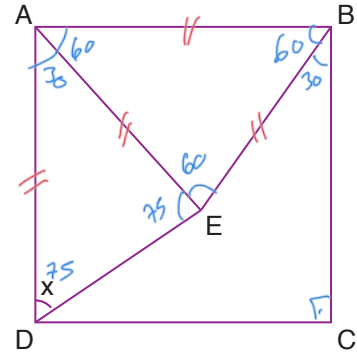
Yandaki şekilde ABFE ve BCDF bir eşkenar dörtgendir.

4.



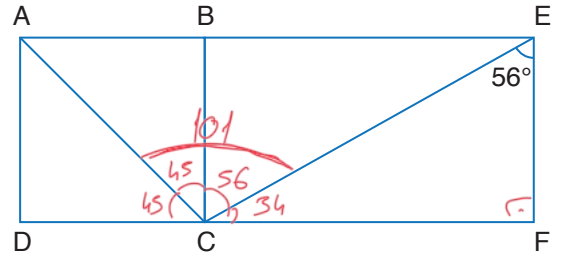
Yukarıdaki şekilde verilmeyen açıları bulunuz.

5.



Yukarıdaki şekilde ABCD bir kare ve ABE bir eşkenar üçgen olduğuna göre x kaç derecedir?

6.

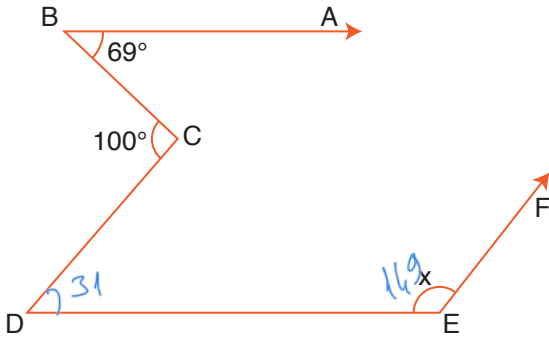


Yukarıdaki şekilde ABCD bir kare ve EFCB bir dikdörtgendir.

Buna göre  $m(\widehat{ACE})$  kaç derecedir?

matematiktek

7.

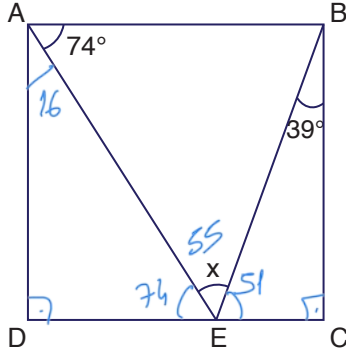


[BA // [DE] ve [DC] // [EF]

Yukarıdaki şekilde verilenlere göre  $x$  kaç derecedir?

119

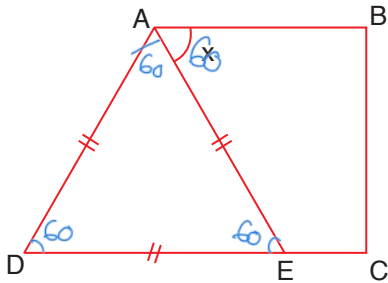
8.



Yukarıdaki ABCD karesinde  $x$  kaç derecedir?

55

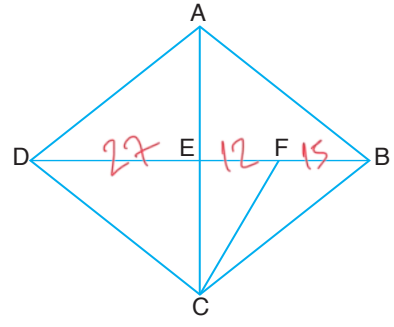
9.



Yukarıdaki ABCD yamuğunda  $x$  kaç derecedir?

60

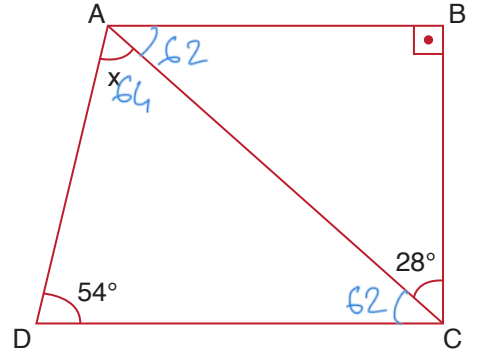
10.



Yukarıdaki ABCD eşkenar dörtgeninde  $IDBI = 54$  cm ve  $IEFI = 12$  cm olduğuna göre  $IFBI$  kaç cm'dir?

15

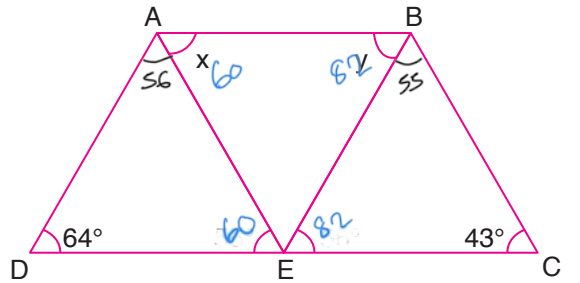
11.



Yukarıdaki ABCD yamuğunda  $x$  kaç derecedir?

64

12.



Yukarıdaki ABCD yamuğunda  $x$  ve  $y$  kaç derecedir?

60 82

matematiktek