

KERIME ASKER- ABDULLAH ASKER



MATHSABI

2. Dönem



2. Dönem 1. Yazılı Hazırlık Çalışması



Daha Fazlasına
Youtube Mathsabi TV
kanalından ulaşabilirsiniz.




MATEMATİK
ÖĞRETMENLERİ
Grubu



Mathsabi
Grubu



INSTAGRAM
Mathsabi



CEVAP ANAHTARI

Sayfa 2

1) a) $x=6$, b) $x=9$, c) $x=7$, d) $x=2$, e) -14 , f) $x=-6$

2) a) $x=25$, b) $x=9$, c) $x=12$, d) $x=2$, e) 7 , f) $x=21$

Sayfa 3

3) $x=4$, 4) Alan= 400 cm^2 , 5) $x=280$ lira , 6) Defne+Bittim = 1000 gram , 7) 102 cm (Raf genişliği)

Sayfa 4

8) a) $x=20$, b) $x=40$, c) $x=2$, d) $x=384$, e) 240

9) a) Kız sayısı= 5 , b) Ali= 240 lira , c) Siyah= 25 , d) Büyük sayı= 30

Sayfa 5

10) a) $x=128$ lira , b) $x=800\text{ km}$, c) $x=96$ lira , d) Büyük kardeş= 100 lira

11) a) $x=12$ gün , b) $x=30$ gün , c) $x=16\text{ km/h}$ artırmalı , d) $y=9$

Sayfa 6

12) a) 16 , b) 30 , c) 2 , d) 120 , 13) a) 54 , b) 2400 lira biriktirir.

14) a) 480 , b) 150 , c) 12 , d) 3000 , 15) a) 132 , b) 2000

SORULARIN DETAYLI ÇÖZÜMLERİNE

İNSTAGRAM MATHSABİ SAYFASINDAN VEYA


YOUTUBE MATHSABİ TV

KANALINDAN ULAŞABİLİRSİNİZ.

Mathsabi

Matematik Fasikülleri



 Daha Fazlasına
Youtube Mathsabi TV
kanalından ulaşabilirsiniz.



 MATEMATİK
ÖĞRETMENLERİ
Grubu




 Mathsabi
Grubu



 İNSTAGRAM
Mathsabi



8. SINIF MATEMATİK AKILLI DERS FASİKÜLLERİ



Sipariş ve sorularınız için bize sosyal medya hesaplarımızdan ulaşabilirsiniz.

ISBN: 978-625-00-0858-4



9 786250 008584